



Городская олимпиада младших школьников и  
обучающихся 5-6-х классов «Тутлячок»  
2023-2024 учебного года  
по окружающему миру  
школьный этап  
3 класс

888.

Время выполнения: 45 минут  
Количество баллов: 100

Шифр участника

305

**Задание 1. Блицтурнир. Ответьте на вопрос, запишите ответ.**

- 1) Самый короткий месяц в году? февраль
- 2) Какой месяц следует после мая? июнь
- 3) Самая близкая к нашей планете звезда? солнце
- 4) Сколько ног у насекомых? шесть
- 5) Как называется столица нашей Родины? Москва
- 6) К какой группе деревьев относятся сосна, кедр, ель? хвойные
- 7) Книга, в которую занесены исчезающие виды растений и животных?  
Красная книга
- 8) По какому номеру вызывают пожарную службу? 101
- 9) Если ты стоишь лицом к северу, то за спиной у тебя Юг
- 10) Прибор для измерения температуры – это термометр 10

**Задание 2. Найдите 6 названий птиц. Зачеркните лишние буквы. Запишите названия птиц.**

ПРВОРОНАЧАКВАИСТМАЩЕГОЛВЫЦМАЛИНОВКАФЙГЕТДЯТЕЛСЖЕЛГОЛУБЬЗГЕРХИА

Ответ: Ворона, аист, щегол, малиновка, дятел, голубь. 6

**Задание 3.**

На Руси это дерево использовали для изготовления лаптей?

Ответ: липа 1

**Задание 4.**

Какие почвенные организмы помогают плодородию почвы?

Ответ: черви 0

**Задание 5. Подчеркните правильные ответы.**

Что является государственными символами?

гимн памятники реки герб столица флаг леса

3

**Задание 6. Подчеркните объекты природы.**

Озеро, кружка, велосипед, облако, кирпич, родник, автобус, книга, бабочка.

4

**Задание 7. Выберите правильное определение, обведите букву правильного ответа.**

Полезные ископаемые – это ...

- а) все минералы и горные породы, из которых состоит Земля.
- б) природные богатства, которые люди добывают из глубин земли или с её поверхности и используют в народном хозяйстве.**
- в) полезные вещества, которые получают из горных пород и минералов.

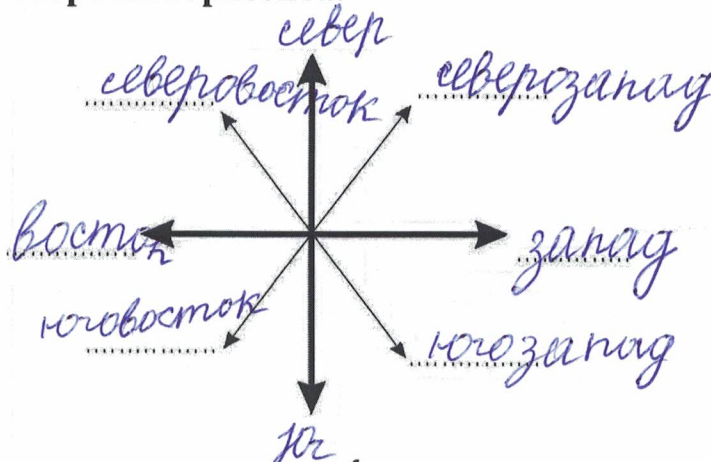
1

**Задание 8. Узнайте природное явление по его описанию. Запишите ответ.**

Природное явление	Ответ
1. Капельки воды, которые покрывают растения и поверхности в ранние часы в тёплое время года.	роса
2. Электрический разряд в небе, сопровождающийся громким звуком.	гроза
3. Маленькие льдинки, которыми иногда сопровождается летний дождь.	град
4. Снегопад с сильным ветром.	метель

**Задание 9. Укажите стороны горизонта.**

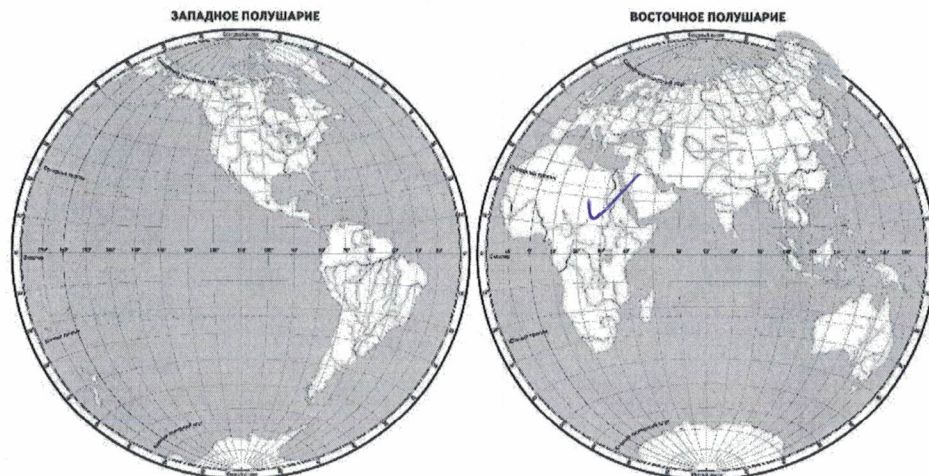
3



2

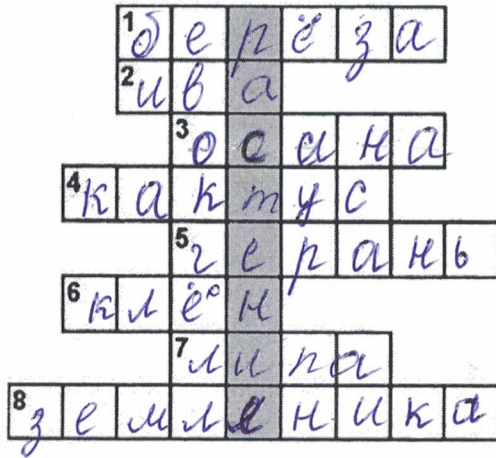
**Задание 10. Укажите на карте знаком ✓ материк с самым жарким климатом.**

Как он называется? Ответ: Африка



2

**Задание 11. Разгадайте кроссворд.**



1. Лиственное дерево с белой корой.
2. Дерево, которое плачет.
3. Из этого дерева делают спички.
4. У него вместо листьев колючки.
5. Комнатное растение, которое отпугивает своим запахом моль.
6. Он считается символом Канады.
7. Лиственное дерево-медонос.
8. Лесная ягода.

Какое слово получилось по вертикали?

Ответ: растения

25

**Задание 12. Соедините линией значения слов.**

- |               |       |                           |
|---------------|-------|---------------------------|
| Планета       | _____ | Раскалённое небесное тело |
| Созвездие     | _____ | Луна                      |
| Спутник Земли | _____ | Холодное небесное тело    |
| Звезда        | _____ | Группа звёзд              |

4

**Задание 13. Составьте 3 цепи питания, используйте слова для выбора:**

орехи, кабан, короед, кора дерева, дятел, белка, жёлуди, ястреб, волк

кора - короед - дятел, кабан - жёлуди - белка  
орехи - белка - ястреб.

4

**Задание 14. Какой орган не является органом пищеварения? Зачеркните его.**

пищевод    желудок    ~~лёгкие~~    кишечник    язык    зубы

1.

**Задание 15. Найдите причину.**

Вырубили старые дуплистые деревья – погиб лес.


- а) в старых деревьях много насекомых: корма для птиц;
- б) в дуплах старых деревьев гнездятся птицы, живут летучие мыши, которые питаются опасными для леса насекомыми;
- в) в старых дуплистых деревьях живут белки.

0

**Задание 16. Разгадайте ребусы о природных явлениях. Запишите ответ.**




1) туман



2) гололёд




3) шторм



4) ветер

8

Задание 17. Найдите название для каждого знака. Соедините линией.

	Движение без остановки запрещено
	Пешеходный переход
	Дети
	Железнодорожный переезд без шлагбаума
	Велосипедная дорожка
	Место остановки автобуса и (или) троллейбуса
	Движение пешеходов запрещено
	Пункт первой медицинской помощи
	Пункт питания

9

Задание 18. На территории Тульской области произошла важная для истории нашей Родины битва. Русское войско под предводительством Дмитрия Донского одержало победу. Как называется это историческое место?

Ответ: Куликово поле

5